

ZLÍNSKÝ KRAJ

- 1 Určete polohu kraje v rámci České republiky.
- 2 Zjistěte, kolik obyvatel má Zlínský kraj.
- 2 Se kterými ostatními kraji Zlínský kraj sousedí? Sousedí i s některým jiným státem? Pokud ano, se kterým?
- Popište znak kraje.
- 2 Kniha ve druhém poli znaku připomíná, že se na území kraje nacházelo centrum Velkomoravské říše spjaté s působením věrozvěstů sv. Cyrila a Metoděje. Třetí pole ukazuje symboly tří oblastí zasahujících do kraje: sekyry-valašky pro Valašsko, radlici pro úrodnou Hanou a vinný hrozen pro Slovácko.



Kroměříž



Valašské Meziříčí



Vsetín



Uherské Hradiště



krajské město Zlín

- důležité správní, kulturní a průmyslové centrum
- univerzitní město

Univerzita Tomáše Bati

„Baťův mrakodrap“ (r. 1938)

Povrch a vodstvo

Podél řeky Moravy se rozkládají části **Hornomoravského** a **Dolnomoravského úvalu**. Ze západu sem zasahují **Chřiby**, východní hranici tvoří části **Bílých Karpat**, **Javorníků**, **Hostýnsko-vsetínská hornatina** a jižní výběžek **Moravskoslezských Beskyd**.

Nejvýznamnější řekou kraje je **Morava** s přítoky **Dřevnicí**, **Olšavou**, **Bečvou** a dalšími.

- 1 Vyhledejte nejvyšší horu kraje.
- 1 Vyhledejte Olšavu a Dřevnici a určete, jaký přítok Moravy (pravý/levý) tvoří.
- 1 Vyhledejte Bečvu a zjistěte, ve kterém kraji se vlévá do Moravy.

Zemědělství

V oblasti podél řeky Moravy se pěstuje pšenice, ječmen, řepa cukrovka, kukuřice a řepka olejka, v podhorských oblastech oves, brambory a len. V horských oblastech se pouze chovají ovce a skot.

- 3 Na příkladech plodin pěstovaných v tomto kraji vysvětlete, jak přírodní podmínky ovlivňují zemědělství.


Průmysl

Jedná se zde především o průmysl **gumárenský** (Continental Barum, Fatra), **strojírenský** (TOS), **letecký** (Aircraft Industries), **zbrojní** (Česká zbrojovka) a **potravinářský** (Hamé).

- 4 Zjistěte a uveďte příklady dalších průmyslových podniků ve vašem kraji.


Kulturní památky

V kraji se nachází mnoho zámků, hradů a jiných kulturních památek.



5 K památkám přiřaďte správné označení: a) hrad Buchlov, b) bazilika na Velehradě, c) arcibiskupský zámek v Kroměříži, d) hrad Malenovice, e) bazilika na Hostýně, f) zámek Lešná, g) hrad Lukov, h) zámek Buchlovice.

Navštívili jste tyto památky? Které z nich patří do seznamu památek UNESCO? Které další kulturní památky vašeho kraje znáte?




Přírodní krásy

6 Pomocí stránek Mapy.cz nebo Google Maps naplánujte trasu pěšího nebo cyklistického výletu do přírody.

V kraji najdeme např. zajímavou národní přírodní rezervaci **Pulčín-Hradisko** se skalním městem a nedalekými **Čertovými skalami**.

Které chráněné krajinné oblasti se v kraji nacházejí nebo do něj alespoň částečně zasahují?



Pulčín-Hradisko



Čertovy skály

Rekreace

7 Vyluštěním přesmyčky získáte název lázeňského města HACEČOVILU (1).

ZOO a zámek Zlín-Lešná jako jediná v ČR chová kivi hnědého (2). Tento nelétavý pták žije ve volné přírodě výhradně na Novém Zélandu, jehož je symbolem.

Zjistěte, kde najdete Valašské muzeum v přírodě (3) a které období představuje Archeoskanzen Modrá.



Známí rodáci

8 Společně zkuste určit významné rodáky vašeho kraje.

a) Není zcela jasné, zda jsem se narodil v Uherském Brodě, v Nivnici, nebo v Komni. Stal jsem se jedním z nejznámějších českých myslitelů a jako zakladatel moderní pedagogiky bývám nazýván „Učitelem národů“. Kdo jsem?

b) Narodil jsem se ve Zlíně. Spolu se svými sourozenci jsem zde založil obuvnickou firmu. V podnikání jsem byl úspěšný, poskytl jsem zaměstnání mnoha lidem ze širokého okolí a ze Zlína jsem vybudoval moderní město. Kdo jsem?

Připravte podobné hádanky o dalších známých osobnostech pocházejících z vašeho kraje (např. Max Švabinský, Emil Filla, Karel Kryl, Eva Jiřičná, Jiří Pavlica, Josef Abrhám, Tomáš Dvořák).

Krajské město: **Zlín**

Další města: **Uherské Hradiště, Kroměříž, Vsetín, Valašské Meziříčí**

Povrch: **Hornomoravský a Dolnomoravský úval, Chřiby, Bílé Karpaty, Javorníky, část Moravskoslezských Beskyd**

Řeky: **Morava, Dřevnice, Olšava, Bečva**

1. Jmenujte plodiny a oblasti, v nichž se pěstují.
2. Jmenujte typy průmyslu zastoupené v kraji.

3. Jmenujte příklady kulturních památek kraje.
4. Jmenujte příklady přírodních krás kraje.

Mgr. Magdalena Konečná, Ph.D.

VLASTIVĚDA 4

POROZUMĚNÍ V SOUVISLOSTECH POZNÁVÁME SVĚT KOLEM NÁS

kde žijeme

učebnice pro 4. ročník základní školy (PŘÍLOHA KRAJE ČESKÉ REPUBLIKY: ZLÍNSKÝ KRAJ)

Jazyková spolupráce: Mgr. Lenka Bičanová, Ph.D.; Bc. Denisa Řeháčková

Odpovědná redaktorka: Mgr. Magdalena Konečná, Ph.D.

Redakční spolupráce: Ing. Mgr. Martin Janáček

Fotografie: archiv NOVÁ ŠKOLA, s.r.o.; Bjalek Michal (h); Radim Holíš (c, p); Michal Kmínek (d); Magdalena Konečná (t); Palickap (n); Milos Pospa (i); Pudelek (k); Scotch Mist (e); SchiDD (b); Tedmek (q); The.Rohit (s); Tomáš Urban (a)

Zdroje dat map: Copernicus Land Monitoring Service. [online]. [cit. 2021-10-15]. Dostupné z WWW: <<https://land.copernicus.eu/>>

ČZÚK. [online]. [cit. 2021-08-10]. Dostupné z WWW: <<https://geoportal.cuzk.cz/>>

Natural Earth. [online]. [cit. 2021-08-10]. Dostupné z WWW: <<https://www.naturalearthdata.com/>>

Grafická úprava: Lucie Kotřlová

První vydání (2021)

Vydala:



NOVÁ ŠKOLA, s.r.o.
Bratislavská 23d, 602 00 Brno
tel.: 545 222 286, 777 577 739
e-mail: nns@nns.cz
www.nns.cz