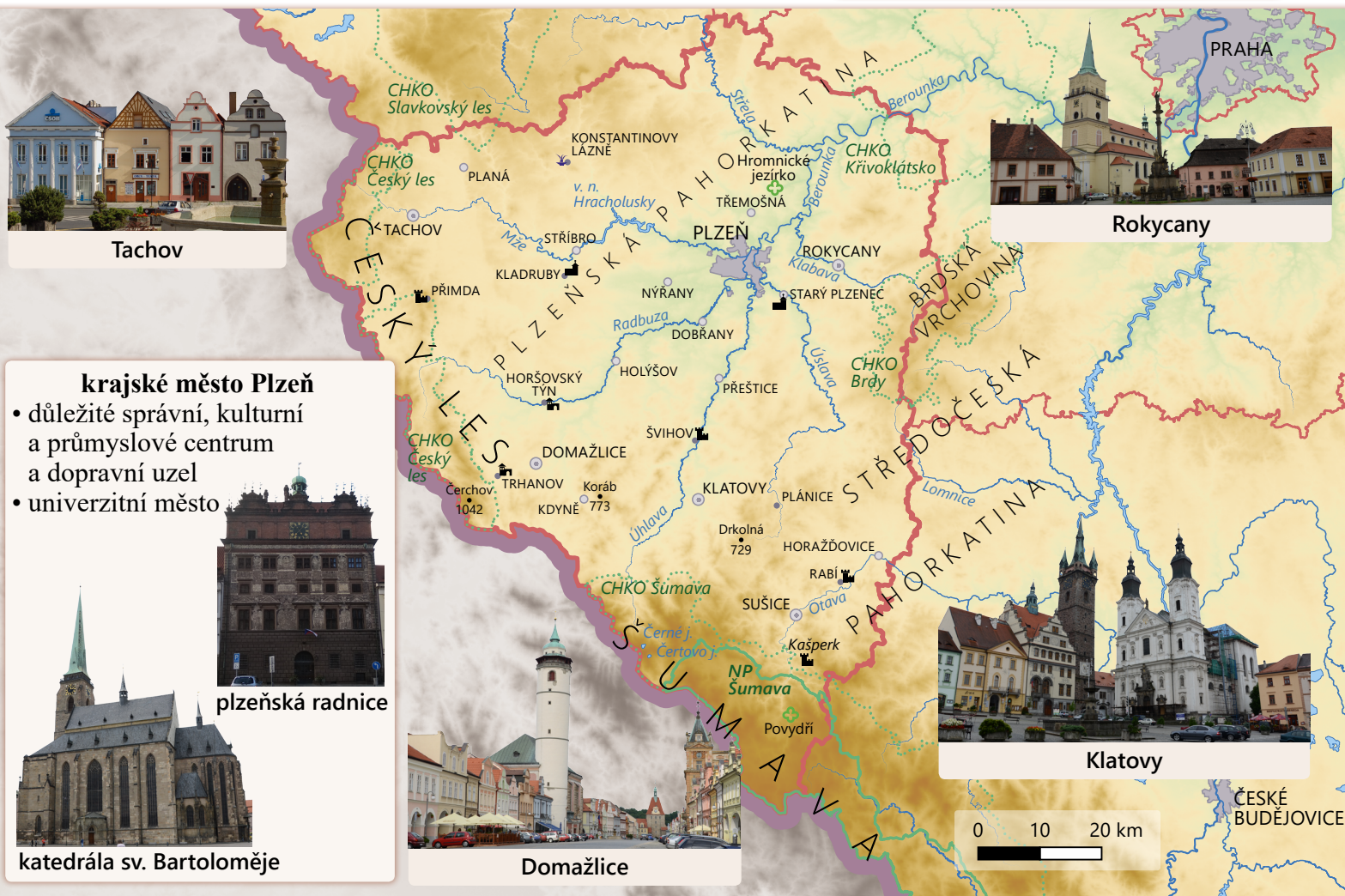
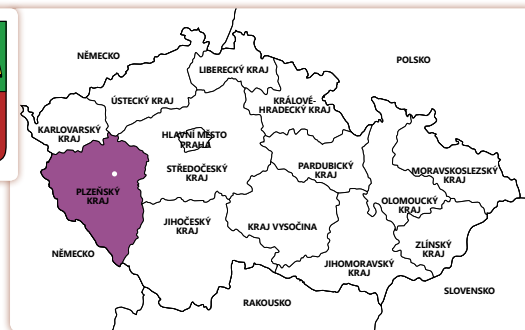


PLZEŇSKÝ KRAJ

- 1 Určete polohu kraje v rámci České republiky.
- @ Zjistěte, kolik obyvatel má Plzeňský kraj.
- 2 Se kterými ostatními kraji Plzeňský kraj sousedí? Sousedí i s některým jiným státem? Pokud ano, se kterým?
- 👉 Popište znak kraje.
- Z Velbloud ve znaku pochází ze znaku Plzně. Tam se objevil v období husitství – není jisté, zda Plzeňským znamená velblouda daroval císař Zikmund Lucemburský, nebo zda si jej do znaku vložili Plzeňští sami na památku toho, že velblouda ukořistili z tábora husitů, kteří Plzeň obléhali.



Tachov



Rokycany

krajské město Plzeň

- důležité správní, kulturní a průmyslové centrum a dopravní uzel
- univerzitní město

plzeňská radnice

katedrála sv. Bartoloměje



Domažlice



Klatovy

Povrch a vodstvo

Území tvoří převážně pahorkatiny. Na jihu se vypíná Šumava a na západě Český les. Většina území spadá do povodí Berounky.

- 📍 Vyhledejte nejvyšší horu kraje.
- 📍 Vyhledejte pahorkatiny ležící v kraji.
- 📍 Ze kterých řek vzniká soutokem Berounka?
- 📍 Která řeka protéká jihovýchodní částí kraje?
- 📍 Vyhledejte největší jezero v ČR.

Zemědělství

Obilniny se pěstují pouze v povodí řeky Berounky, v ostatních částech kraje se pěstují řepka olejka, píce a brambory. Z živočišné výroby je významnější chov skotu v podhorských oblastech.

- @ Které květiny se začaly v Klatovech pěstovat po napoleonských válkách a sklízely úspěchy na světových výstavách květin?

Průmysl

Mezi nejvýznamnější průmyslová odvětví patří **strojírenství** (Škoda Transportation), potravinářství (Plzeňský Prazdroj), výroba keramiky či výroba a distribuce energií (Plzeňská teplárenská).

- @ Zjistěte a uveďte příklady výrobků Škoda Transportation. Na jakou tradici závod navazuje?

Kulturní památky

V kraji se nachází mnoho zámků, hradů a jiných kulturních památek.



3 K památkám přiřaďte správné označení: a) rotunda sv. Petra a Pavla (Starý Plzeňec), b) hrad Přimda, c) hrad Rabí, d) hrad Kašperk, e) vodní hrad Švihov, f) zámek Horšovský Týn, g) klášter Kladruby, h) zámek Trhanov.

👉 Navštívili jste tyto památky? Které další kulturní památky vašeho kraje znáte?

@ Zjistěte, kdo nechal postavit trhanovský zámek a se kterým příběhem se pojí.




Přírodní krásy

4 Zopakujte si, proč jsou některé oblasti zvláště chráněné.

Do kraje zasahuje **NP Šumava**, do nějž spadá i **Povydří**. Nedaleko najdeme **horské slatě** a **jezera ledovcového původu** (např. Černá a Čertovo).

Zajímavou přírodní památkou je Hromnické jezírko, které obsahuje slabý roztok kyseliny sírové.



Povydří



Čertovo jezero



Hromnické jezírko

👉 Které chráněné krajinné oblasti se v kraji nacházejí nebo do něj alespoň částečně zasahují?

Rekreace a zajímavosti

5 Vyluštěním přesmyčky získáte název lázeňské obce s pěti léčivými prameny **VONKANIT-NOSTY ZÁNĚL** (1).

👉 Vodní nádrž Hracholusky (2) je oblíbeným místem letní rekreace. Na které řece leží?

@ Zjistěte, kdy probíhají prohlídky pivovaru Plzeňský Prazdroj (3).



1



2



3

Známí rodáci

6 Společně zkuste určit významné rodáky vašeho kraje.

a) Narodil jsem se v Plánicích. Proslul jsem jako vynálezce zdokonalené obloukové lampy či světelné fontány, zřídil jsem první pražskou elektrickou tramvajovou dráhu, sestrojil elektromobil atd. Kdo jsem?

b) Narodil jsem se v Plzni-Petrohradu. Měl jsem rád loutky, natočil jsem mnoho loutkových a kreslených filmů oceněných i ve světě. Možná znáte mé obrázky z pohádkových knížek. Kdo jsem?

👉 Připravte podobné hádanky o dalších známých osobnostech pocházejících z vašeho kraje (např. Emil Škoda, Miroslav Zikmund, Jiří Suchý, Karel Gott, Miroslav Horníček, Petr Čech, Barbora Strýcová).

Krajské město: **Plzeň**

Další města: **Domažlice, Klatovy, Rokycany, Tachov**

Povrch: **Šumava, Plzeňská pahorkatina**

Řeky: **Berounka**

1. Jmenujte plodiny a oblasti, v nichž se pěstují.

2. Jmenujte typy průmyslu zastoupené v kraji.

3. Jmenujte příklady kulturních památek kraje.

4. Jmenujte příklady přírodních krás kraje.

Mgr. Magdalena Konečná, Ph.D.

VLASTIVĚDA 4

POROZUMĚNÍ V SOUVISLOSTECH POZNÁVÁME SVĚT KOLEM NÁS

kde žijeme

učebnice pro 4. ročník základní školy (PŘÍLOHA KRAJE ČESKÉ REPUBLIKY: PLZEŇSKÝ KRAJ)

Jazyková spolupráce: Mgr. Lenka Bičanová, Ph.D.; Bc. Denisa Řeháčková

Odpovědná redaktorka: Mgr. Magdalena Konečná, Ph.D.

Redakční spolupráce: Ing. Mgr. Martin Janáček

Fotografie: archiv NOVÁ ŠKOLA, s.r.o.; Benutzer-ID 85797 (b); Zdeněk Fiedler (k); Jan Geier (j); Petr Kinšt (i); Magdalena Konečná (e, p, r); Ondrej. konicek (s); Jiří Strašek (n); Tomáš Urban (a); Vlcekfanda (t)

Zdroje dat map: Copernicus Land Monitoring Service. [online]. [cit. 2021-10-15]. Dostupné z WWW: <<https://land.copernicus.eu/>>

ČZÚK. [online]. [cit. 2021-08-10]. Dostupné z WWW: <<https://geoportal.cuzk.cz/>>

Natural Earth. [online]. [cit. 2021-08-10]. Dostupné z WWW: <<https://www.naturalearthdata.com/>>

Grafická úprava: Lucie Kotřlová

První vydání (2021)

Vydala:



NOVÁ ŠKOLA, s.r.o.
Bratislavská 23d, 602 00 Brno
tel.: 545 222 286, 777 577 739
e-mail: nns@nns.cz
www.nns.cz