


KARLOVARSKÝ KRAJ

- 1 Určete polohu kraje v rámci České republiky.
- 2 Zjistěte, kolik obyvatel má Karlovarský kraj.
- 2 Se kterými ostatními kraji Karlovarský kraj sousedí? Sousedí i s některým jiným státem? Pokud ano, se kterým?
- 3 Popište znak kraje.
- 2 Český lev symbolizuje historické území Čech, kladívka se zlatými ratolestmi odkazují na hornictví a český lev vyrůstající ze tří vlnitých stříbrných břev, která mají představovat léčivé zdroje a vodní toky, je znakem města Karlovy Vary. Co značí zlatá fontána s tryskající stříbrnou vodou?



Sokolov

0 10 20 km



Jáchymov

krajské město Karlovy Vary

- důležité správní, kulturní a průmyslové centrum
- významné lázeňské město



Tržní kolonáda



Vřídelská kolonáda



Cheb



Mariánské Lázně

Povrch a vodstvo

Kraj tvoří převážně vysočiny: Krušné hory, Smrčiny, Karlovarská vrchovina se Slavkovským lesem, Doupovské hory a na jihozápadě do kraje zasahuje Český les.

Nejvýznamnější řekou kraje je **Ohře**.

- 3 Vyhledejte nejvyšší horu kraje.
- 3 Vyhledejte Ohři a jmenujte některý z jejích levých a některý z jejích pravých přítoků.

Zemědělství

Pěstují se zde brambory, řepka olejka a nenáročné obilniny. V horských oblastech se chovají ovce a skot.

- 3 Na příkladech plodin pěstovaných v tomto kraji vysvětlete, jak přírodní podmínky ovlivňují zemědělství.

Průmysl a služby

Karlovarský kraj je díky léčivým pramenům a minerálním vodám proslulý **lázeňstvím**. Kromě toho je zde tradiční výroba porcelánu, skla a keramiky (Thun, Moser), zastoupen je i průmysl potravinářský, textilní, **strojírenský a chemický**. Těžba hnědého uhlí na Sokolovsku je v současnosti spíše utlumována.

- 4 Zjistěte názvy dalších průmyslových podniků ve vašem kraji.

Kulturní památky

V kraji se nachází mnoho zámků, hradů a jiných kulturních památek.




1



2



3




4




5

- 5 K památkám přiřaďte správné označení:
 a) Chebský hrad (fale), b) hrad Loket, c) hrad Ostroh, d) zámek a hrad Bečov nad Teplou, e) zámek Kynžvart, f) zámek Chyše, g) Věž smrti.

- 👉 Navštívili jste tyto památky? Které z nich patří do seznamu památek UNESCO?
 Které další kulturní památky vašeho kraje znáte?



6



7

Přírodní krásy a zajímavosti

V kraji můžeme navštívit **mnoho rašeli-
nišť**. Jedním z nejznámějších je **Soos**, na jehož území je zjištěno více než 200 vý-
věrů minerálních vod a oxidu uhličitého.
 Zajímavostí kraje je **zbytek jedné z nej-
mladších sopek** na našem území – přírod-
ní památka **Železná hůrka**.



Soos



Železná hůrka



Vlčí jámy

Oblíbené jsou tzv. Vlčí jámy, které vznikly v místech středověké těžby cínových rud a jsou pozoruhodné nejen výskytem ohrožených druhů rostlin a živočichů, ale také jeskynního ledu.

- 🌀 Které chráněné krajinné oblasti se v kraji nacházejí nebo do něj alespoň částečně zasahují?

Rekreace

- 6 Vyluštěním přesmyčky získáte název zaniklého cínového dolu, který byl zaznamenán již roku 1548 a jehož komory z 16. století si můžeme prohlédnout i dnes: RÝMJONE (1).

- @ V kraji tvoří tři města tzv. lázeňský trojúhelník. Jedním z nich jsou Františkovy Lázně s mnoha prameny, z nichž nejznámější je Františkův pramen (2). Zjistěte, po kom se město jmenuje. Která města tvoří další dva vrcholy trojúhelníku?



1



2

Známí rodáci

- 7 Společně zkuste určit významného rodáka vašeho kraje.

Narodil jsem se v Karlových Varech a mé křestní jméno je Heinrich. Velmi úspěšně jsem podnikal v expedování karlovarských minerálních vod a později i léčivé vody z Ottova pramene v obci Kyselka, který jsem později koupil. Na mé podnikání dnes upomínají muzea v Kyselce a Nejdku. Kdo jsem?

- 👉 Připravte podobné hádanky o dalších známých osobnostech pocházejících z vašeho kraje (např. Daniela Kolářová, Dan Bárta, Lenka Dusilová, Ladislav Gerendáš, Andrea Černá, Pavel Nedvěd).

Krajské město: **Karlovy Vary**
 Další města: **Cheb, Sokolov, Jáchymov, Mariánské Lázně**

Povrch: **Chebská a Sokolovská pánev, Krušné hory, Smrčiny, Karlovarská vrchovina, Doupovské hory**

Řeky: **Ohře**

1. Jmenujte plodiny, které se zde pěstují.
 2. Jmenujte typy průmyslu zastoupené v kraji.

3. Jmenujte příklady kulturních památek kraje.
 4. Jmenujte příklady přírodních zajímavostí kraje.

Mgr. Magdalena Konečná, Ph.D.

VLASTIVĚDA 4

POROZUMĚNÍ V SOUVISLOSTECH POZNÁVÁME SVĚT KOLEM NÁS

kde žijeme

učebnice pro 4. ročník základní školy (PŘÍLOHA KRAJE ČESKÉ REPUBLIKY: KARLOVARSKÝ KRAJ)

Jazyková spolupráce: Mgr. Lenka Bičanová, Ph.D.; Bc. Denisa Řeháčková

Odpovědná redaktorka: Mgr. Magdalena Konečná, Ph.D.

Redakční spolupráce: Ing. Mgr. Martin Janáček

Fotografie: archiv NOVÁ ŠKOLA, s.r.o.; Lubor Ferenc (c, i, q, r, s); Franzfoto (d); Chmee2 (p); Michal Louč (m); Vitold Muratov (j); SchiDD (n); Simy27 (g); Jiří Strašek (l); Tomáš Urban (a); VitVit (e); Vlach Pavel (h); W.J.Pilsak (k)

Zdroje dat map: Copernicus Land Monitoring Service. [online]. [cit. 2021-10-15]. Dostupné z WWW: <<https://land.copernicus.eu/>>

ČZÚK. [online]. [cit. 2021-08-10]. Dostupné z WWW: <<https://geoportal.cuzk.cz/>>

Natural Earth. [online]. [cit. 2021-08-10]. Dostupné z WWW: <<https://www.naturalearthdata.com/>>

Grafická úprava: Lucie Kotřlová

První vydání (2021)

Vydala:



NOVÁ ŠKOLA, s.r.o.
Bratislavská 23d, 602 00 Brno
tel.: 545 222 286, 777 577 739
e-mail: nns@nns.cz
www.nns.cz