

JIHOČESKÝ KRAJ

1 Určete polohu kraje v rámci České republiky.

@ Zjistěte, kolik obyvatel má Jihočeský kraj.

2 Se kterými ostatními kraji Jihočeský kraj sousedí? Sousedí i s některým jiným státem? Pokud ano, se kterým?

👉 Popište znak kraje.

Z Polcené pole s růží připomíná významné šlechtické rody Rožmberků a pánů z Hradce. Znak Českých Budějovic má podobu vyobrazenou na městské pečeti používané v první polovině 14. století. Zařazením do krajského znaku však přišel o štít s českým lvem. Ten je totiž již v prvním poli znaku.

Z Náměstí Přemysla Otakara II. je 2. největší náměstí v ČR. Má téměř čtvercový tvar: 132,5 × 137,4 × 134,1 × 134 m. Bylo vytyčeno při založení města v roce 1265.



Strakonice


Písek

Tábor

Prachatic

krajské město České Budějovice

- správní a kulturní centrum
- univerzitní město



radnice



Český Krumlov



Jindřichův Hradec

0 10 20 km

Povrch a vodstvo

Do severozápadní části kraje zasahuje **Středočeská pahorkatina**, do východní části **Českomoravská vrchovina**. Hornaté hranice tvoří na jihozápadě **Šumava** a na jihu **Novohradské hory**.

Nejvýznamnějšími řekami jsou **Vltava**, **Otava** a **Lužnice** se rozkládají **Českokbudějovická** a **Třeboňská pánev**.

- 📍 Vyhledejte nejvyšší horu kraje.
- 📍 Vyhledejte Lužnici a určete, jaký přítok Vltavy (pravý/levý) tvoří.
- 📍 Vyhledejte řeky, které spadají do povodí Otavy.
- 📍 Vyhledejte dvě významné vodní nádrže. Na které řece leží?
- 📍 Vyhledejte rybníky Rožmberk, Horusický r., Bezdrev a další.

Zemědělství

Pěstují se zde obiloviny, kukuřice, olejniny, brambory a ovoce. V živočišné výrobě je významný chov skotu, drůbeže a prasat. Dlouholetou tradicí má v Jihočeském kraji **rybníkářství**.


@ Zjistěte, které fakulty tvoří Jihočeskou univerzitu. Která fakulta se na ostatních českých univerzitách nevyskytuje? Proč?

Průmysl

Energetický průmysl zde zastupuje jaderná elektrárna Temelín. Významný je zde rovněž **potravinářský**, **dřevozpracující** a **textilní** průmysl.


Kulturní památky

V kraji se nachází mnoho zámků, hradů a jiných kulturních památek.



3 K památkám přiřaďte správné označení: a) hrad Landštejn, b) hrad Zvíkov, c) klášter Vyšší Brod, d) most v Písku, e) zámek Hluboká, f) zámek Kratochvíle, g) zámek Orlík, h) Holašovice.

Navštívili jste tyto památky? Které z nich patří do Seznamu památek UNESCO? Které další kulturní památky vašeho kraje znáte?



Přírodní krásy

Do kraje zasahuje část NP Šumava, v CHKO Šumava se nachází **Boubínský prales** se staletými stromy. Oblíbený je i přírodní park **Česká Kanada**, kde mohou návštěvníci obdivovat zajímavý skalní útvar **Ďáblův chléb**.

Které další chráněné krajinné oblasti se v kraji nacházejí nebo do něj alespoň částečně zasahují?



Boubínský prales



Ďáblův chléb

Zajímavosti

Jaké expozice a výstavy nabízí Husitské muzeum v Táboře (1)?

V jaké hloubce se návštěvníci pohybují v grafitovém dole pod Českým Krumlovem (2)?

Vyluštěním přesmyčky získáte název 675 metrů dřevěné stezky na vrchu Kramolín u Lipna nad Vltavou: ZETKAS RANOKUMI MRŮTOS (3).



1



2



3

Známí rodáci

Společně zkuste určit významné rodáky vašeho kraje.

a) Narodil jsem se v Husinci. Byl jsem středověký náboženský myslitel, římskokatolický kněz a reformátor. Pro své názory jsem byl označen za kacíře a 6. července 1415 jsem byl upálen na hranici. Kdo jsem?

b) Narodil jsem se v Českých Velenicích. Byl jsem český malíř, ilustrátor mnoha knih, např. *Boříkových lapálů*, *Sísy Kyselé*, *Pipi Dlouhé punčochy*, a autor oblíbených postaviček z večerníčků Macha a Šebestové nebo Žofky. Kdo jsem?

Připravte podobné hádanky o dalších známých osobnostech pocházejících z vašeho kraje (např. Jan Žižka, Adam Michna z Otradovic, Ema Destinová, Marta Kubišová, Rudolf Hrušínský st., Radek Pilař, Václav Chalupa, Karel Roden, Petr Muk, Karel Poborský, Pavel Šporcl, Bára Hrzánová, Tomáš Verner, Jiří Mádl).

Krajské město: **České Budějovice**
 Další města: **Český Krumlov, Jindřichův Hradec, Písek, Prachatice, Strakonice a Tábor**

Povrch: **Středočeská pahorkatina, Šumava, Novohradské hory, Českobudějovická a Třeboňská pánev**
 Řeky: **Vltava, Otava, Lužnice**

1. Která oblast zemědělství je pro Jihočeský kraj tradiční?
2. Jmenujte typy průmyslu zastoupené v kraji.

3. Jmenujte příklady kulturních památek kraje.
4. Jmenujte příklady přírodních krás kraje.

Mgr. Magdalena Konečná, Ph.D.

VLASTIVĚDA 4

POROZUMĚNÍ V SOUVISLOSTECH POZNÁVÁME SVĚT KOLEM NÁS

kde žijeme

učebnice pro 4. ročník základní školy (PŘÍLOHA KRAJE ČESKÉ REPUBLIKY: JIHOČESKÝ KRAJ)

Jazyková spolupráce: Mgr. Lenka Bičanová, Ph.D.; Bc. Denisa Řeháčková

Odpovědná redaktorka: Mgr. Magdalena Konečná, Ph.D.

Redakční spolupráce: Ing. Mgr. Martin Janáček

Fotografie: archiv NOVÁ ŠKOLA, s.r.o.; Norbert Aepli, Switzerland (noebu) (f); Dguendel (c); Jitka Erbenová (cheva) (t); Chmee2 (q); donald judge (l); Karelj (k); Magdalena Konečná (g); Martin Kozák (b); Kralpilot (j, m, p); MIGORMCZ (e); Jiří Nedas (r); Herbert Ortner (h); Pohled 111 (s); Richenza (u); Tomáš Urban (a); VitVit (d); Ondřej Žváček (i)

Zdroje dat map: Copernicus Land Monitoring Service. [online]. [cit. 2021-10-15]. Dostupné z WWW: <<https://land.copernicus.eu/>>

ČZÚK. [online]. [cit. 2021-08-10]. Dostupné z WWW: <<https://geoportal.cuzk.cz/>>

Natural Earth. [online]. [cit. 2021-08-10]. Dostupné z WWW: <<https://www.naturalearthdata.com/>>

Grafická úprava: Lucie Kotřlová

První vydání (2021)

Vydala:



NOVÁ ŠKOLA, s.r.o.
Bratislavská 23d, 602 00 Brno
tel.: 545 222 286, 777 577 739
e-mail: nns@nns.cz
www.nns.cz